

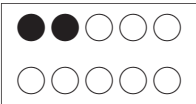
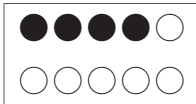
こたえ

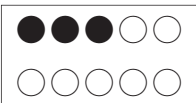
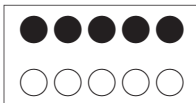
ねんせい
1年生

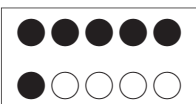
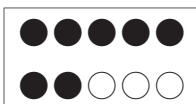
1


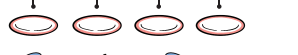
ほん
き本テスト
P.1-2



10までの かず(1)



1 ①  ② 



③  ④ 

⑤  ⑥ 

2 ① 
 

② 
 

③ 
 

④ 
 

ポイント

★ どちらが おおいかを くらべる ときは、せんで むすんで みます。
 せんで むすんで あまった ほうが おおいです。

2

かんせいテスト
P.3-4

10までの かず(1)

1 ①  ●●○○○○○○○○○○

②  ●●●●●○○○○○○

③  ●●●○○○○○○○○

④  ●●●●●○○○○○○

2 (○を つける もの)

①  ②  ③  ④ 

3

ほん
き本テスト
P.5-6

10までの かず(2)

1 (せんで むすぶ もの)

①と う, ②と あ, ③と い,
 ④と え

2 ① ●●●●●○○○○○○

② ●●●●●●●●○○


③ ●●●●●●●●○○


3 (○を つける もの)

①あ ②い

ポイント

★《1から 10までの かず》

 ————
 |

 ————
 |

	さん	3
	し	4
	ご	5
	ろく	6
	しち	7
	はち	8
	く	9
	じゅう	10

2

3 ①

②

③

4 (せんで むすぶ もの)
 ①と え, ②と あ, ③と い,
 ④と う

6 かんせいテスト P.11-12 **かずの くみ**

- 1 ①5こ ②3こ
 2 ①6こ ②8こ ③3こ
 3 ①4 ②3
 4 ①3 ②2 ③7 ④5 ⑤6
 ⑥10 ⑦8 ⑧7
 5 ①8 ②5 ③6 ④4 ⑤9

4 かんせいテスト P.7-8 **10までの かず(2)**

- 1 ①4わ ②6つ ③5ほん
 ④3こ ⑤8ほん ⑥7ひき
 2 (ひだりから)①2, 1, 0
 ②8, 9, 10
 3 (○を つける もの)
 ①6 ②9 ③10 ④7

5 ほんき本テスト P.9-10 **かずの くみ**

- 1 ①1と 4 ②2と 3
 ③3と 2 ④4と 1



7 ほんき本テスト P.13-14 **なんばんめ**

- 1 ①4 ②0 ③9 ④3
 2 (まえ)
- 3 (まえ)
- 4 ①4 ②5
 5 ①3 ②3

ポイント

- ★ 《まえからの じゅんばん》
まえから 1, 2, 3, ...
と ばんごうを かいて
いくと, よく わかります。
- ★ 《まえから いくつ, まえ
から なんばんめ》
・まえから 3つ
(まえ) ●●●○○○○○○○
- ・まえから 3ばんめ
(まえ) ○○●○○○○○○○

8 かんせいテスト P.15-16 **なんばんめ**

- 1 ①(まえ)  ②(まえ) 
- 2 ①5 ②5 ③ゆうな ④みつき
⑤うしろ ⑥まえ
- 3 ①うさぎ ②りす ③3 ④5
⑤した ⑥うえ


9 ほんき本テスト P.17-18 **20までの かず**

- 1 ①18こ ②15 ③20こ
- 2 ①12 ②15 ③14 ④3 ⑤1
⑥6
- 3 ①

11	12	13	14	15
----	----	----	----	----

②

16	17	18	19	20
----	----	----	----	----
- 4 (○を つける もの)
①11 ②18



ポイント

- ★ 《11から 20までの かず》
- ・10と 1 で

11

 じゅういち
- ・10と 2 で

12

 じゅうに
- ・10と 3 で

13

 じゅうさん
- ・10と 4 で

14

 じゅうし
- ・10と 5 で

15

 じゅうご
- ・10と 6 で

16

 じゅうろく
- ・10と 7 で

17

 じゅうしち
- ・10と 8 で

18

 じゅうはち
- ・10と 9 で

19

 じゅうく
- ・10と 10で

20

 にじゅう

10 かんせいテスト① P.19-20 **20までの かず**

- 1 ①14まい ②20ぼん ③16こ
④18こ
- 2 ①13 ②10 ③10 ④15
- 3 ①

0	5	10	15	20
---	---	----	----	----

②

10	12	14	16	18	20
----	----	----	----	----	----
- 4 ① [12, 8, 6]
② [20, 19, 17]
- 5 ①3つ
②にんじん

11

かんせいテスト②
P.21-22

20までの かず

- 1 ①8 ②14 ③12 ④はるま
 2 ①

17	16	15	14	13	12
----	----	----	----	----	----

 ②

20	19	18	17	16	15
----	----	----	----	----	----

 3 (ひだりから)4, 8, 12, 18
 4 ①9 ②9 ③14 ④10 ⑤20
 ⑥14 ⑦20 ⑧18

12

かんせいテスト①
P.23-24

おおきな かず

- 1 ①25こ ②37こ ③50まい
 ④100ぼん
 2 ①50 ②46
 3 ①5 ②7
 4 ①

56	57	58	59	60
----	----	----	----	----

 ②

96	97	98	99	100
----	----	----	----	-----

 ③

116	117	118	119	120
-----	-----	-----	-----	-----

 5 (○をつけるもの)
 ①27 ②50

ポイント

- 1 10が 10 あつまった
 かずは 100です。
 2 おおきな かずを かぞえ
 る ときは、10が いくつ、
 1が いくつかを かんがえます。
 3 10の まとまりの かずが
 十のくらの すうじ、1の
 まとまりの かずが 一のく
 らいの すうじに なります。

7	5
---	---

十のくらの	一のくらの
-------	-------

十のくらの すうじは
 7、一のくらの すうじ
 は 5

- 5 おおきな かずを くらべ
 る ときには、まず 十のく
 らいの すうじを くらべ、
 おなじ ときは 一のくらの
 の すうじを くらべます。

13

かんせいテスト①
P.25-26

おおきな かず

- 1 ①42こ ②56まい
 2 ①8
 ②(ひだりから)9, 6
 ③100
 3 ①63 ②84
 4 ①97 ②66

14

かんせいテスト②
P.27-28

おおきな かず

- 1 ①5 ②8 ③65 ④55
 ⑤100 ⑥120 ⑦98 ⑧120
 2 ①

75	80	85	90	95	100
----	----	----	----	----	-----

 ②

70	80	90	100	110	120
----	----	----	-----	-----	-----

 ③

90	92	94	96	98	100
----	----	----	----	----	-----

 ④

25	35	45	55	65	75
----	----	----	----	----	----

 3 (ひだりから)①16, 24
 ②86, 98 ③103, 118

15 基本テスト たしざん(1)
P.29-30

- 1 ①7 ②8
2 ①4 ②6
3 ①2 ② $4+2=6$ ③6
4 ①4 ② $5+4=9$ ③9

ポイント

1 《たしざん》

〈れい〉 $4+3$ は、4と 3を
あわせたら いくつにな
るかを かんがえます。

4と 3を あわせると
7になるから、
 $4+3=7$
と かきます。

2 《0の たしざん》

・ある かずに 0を たすと、
こたえは もとの かずに
なります。

〈れい〉 $3+0=3$

・0にある かずを たすと、
こたえは たした かずに
なります。

〈れい〉 $0+3=3$

16 かんせいテスト たしざん(1)
P.31-32

- 1 ①9 ②10 ③9 ④7 ⑤6
⑥8 ⑦0 ⑧9 ⑨10 ⑩8
2 しき $6+4=10$
こたえ 10こ
3 しき $5+3=8$
こたえ 8わ

4 しき $4+5=9$
こたえ 9にん

5 しき $3+0=3$
こたえ 3つ

6 しき $6+2=8$
こたえ 8まい

17 基本テスト たしざん(2)
P.33-34

- 1 ①13 ②14
2 しき $10+5=15$
こたえ 15こ
3 ①15 ②17
4 しき $11+4=15$
こたえ 15わ

ポイント

★ 10より おおきい かず
の たしざんは、11~19の
かずを「10と いくつ」と
かんがえて けいさんします。

18 かんせいテスト たしざん(2)
P.35-36

- 1 ①18 ②17 ③19 ④16 ⑤16
⑥18 ⑦19 ⑧19 ⑨15 ⑩17
⑪19 ⑫17
2 しき $10+4=14$
こたえ 14こ
3 しき $12+6=18$
こたえ 18ほん
4 しき $10+9=19$
こたえ 19にん

5 **しき** $13 + 6 = 19$

こたえ 19こ

19 基本テスト たしざん(3)
P.37-38

1 ① 12 ② 13

2 **しき** $9 + 3 = 12$

こたえ 12こ

3 **しき** $5 + 6 = 11$

こたえ 11だい

4 ① 13 ② 6 ③ 6

20 かんせいテスト たしざん(3)
P.39-40

1 ① 11 ② 14 ③ 14 ④ 17 ⑤ 12
⑥ 11 ⑦ 13 ⑧ 15 ⑨ 13 ⑩ 11
⑪ 11 ⑫ 12 ⑬ 13 ⑭ 11 ⑮ 12
⑯ 11

2 (せんで おすぶ もの)
あと ⑤, ⑩と ④, ⑨と ⑧,
③と ①

3 **しき** $5 + 7 = 12$

こたえ 12わ

4 **しき** $9 + 4 = 13$

こたえ 13ぼん

21 基本テスト ひきざん(1)
P.41-42

1 ① 3 ② 4

2 ① 4 ② 0

3 ① 2 ② $6 - 2 = 4$ ③ 4

4 ① 5 ② $8 - 5 = 3$ ③ 3

ポイント

1 《ひきざん》

〈れい〉 $5 - 2$ は、5から 2 を とると、いくつにな るかを かんがえます。

5から 2を とると 3 になるから、

$$5 - 2 = 3$$

と かきます。

2 《0の ひきざん》

・おなじ かずを ひくと、こたえは 0に なります。

・ある かずから 0を ひくと、こたえは もとの かずに なります。

〈れい〉 $3 - 0 = 3$

22 かんせいテスト ひきざん(1)
P.43-44

1 ① 3 ② 2 ③ 5 ④ 3 ⑤ 6
⑥ 9 ⑦ 4 ⑧ 4 ⑨ 0 ⑩ 6

2 **しき** $8 - 5 = 3$

こたえ 3まい

3 **しき** $6 - 2 = 4$

こたえ 4わ

4 **しき** $7 - 4 = 3$

こたえ 3にん

5 **しき** $3 - 0 = 3$

こたえ 3つ

6 **しき** $10 - 6 = 4$

こたえ すずめの ほうが 4わ おおい。

23 ほん
き本テスト
P.45-46 ひきざん(2)

- 1 ① 10 ② 10
2 **しき** $14 - 4 = 10$
こたえ 10まい
3 ① 12 ② 14
4 **しき** $13 - 2 = 11$
こたえ 11

ポイント

★ 10より おおきい かず
の ひきざんは, 11~19を
「10と いくつ」と かん
がえて けいさんします。

24 かんせいテスト
P.47-48 ひきざん(2)

- 1 ① 10 ② 10 ③ 10 ④ 10 ⑤ 11
⑥ 11 ⑦ 12 ⑧ 13 ⑨ 13 ⑩ 12
⑪ 13 ⑫ 12
2 **しき** $14 - 4 = 10$
こたえ 10にん
3 **しき** $16 - 6 = 10$
こたえ 10こ
4 **しき** $14 - 3 = 11$
こたえ 11こ
5 **しき** $18 - 6 = 12$
こたえ 12にん

25 ほん
き本テスト
P.49-50 ひきざん(3)

- 1 ① 9 ② 6

2 **しき** $14 - 6 = 8$
こたえ 8わ

3 **しき** $12 - 8 = 4$
こたえ 4こ

- 4 ① 6 ② 9 ③ 9

26 かんせいテスト
P.51-52 ひきざん(3)

- 1 ① 9 ② 8 ③ 7 ④ 6 ⑤ 9
⑥ 8 ⑦ 8 ⑧ 7 ⑨ 6 ⑩ 9
⑪ 9 ⑫ 8 ⑬ 9 ⑭ 8 ⑮ 7
⑯ 5

- 2 (せんで むすぶ もの)
あと き, いと け, うと か,
えと く

3 **しき** $14 - 6 = 8$
こたえ 8こ

4 **しき** $16 - 7 = 9$
こたえ 9こ

27 ほん
き本テスト①
P.53-54 たしざんと ひきざん

- 1 ① 6 ② (じゅんに)6, 7 ③ 7
2 ① 5 ② (じゅんに)5, 3 ③ 3
3 ① 4 ② (じゅんに)4, 7 ③ 7
4 ① 8 ② (じゅんに)8, 6 ③ 6

ポイント

★ 3つの かずの けいさん
は, ひだりから じゅんに
けいさんします。

28 ほんき本テスト② P.55-56 たしざんと ひきざん

- 1 ①3, 2 ② $4+3+2=9$
③9
- 2 ①3, 1 ② $7-3-1=3$
③3
- 3 ①3, 4 ② $5-3+4=6$
③6
- 4 ①3, 4 ② $6+3-4=5$
③5

29 かんせいテスト P.57-58 たしざんと ひきざん

- 1 ①8 ②10 ③14 ④16 ⑤2
⑥4 ⑦3 ⑧6 ⑨4 ⑩14
⑪12 ⑫13 ⑬8 ⑭15
- 2 **しき** $7+3+4=14$
こたえ 14にん
- 3 **しき** $6+4-3=7$
こたえ 7わ
- 4 **しき** $10-4+6=12$
こたえ 12こ

30 ほんき本テスト① P.59-60 おおきな かずの たしざんと ひきざん

- 1 ①3, 2, 5 ②50 ③50
- 2 **しき** $20+40=60$
こたえ 60まい
- 3 ①5, 2, 3 ②30 ③30
- 4 **しき** $60-40=20$
こたえ 20こ

ポイント

★ 「なん十の たしざん」「なん十の ひきざん」は、10がいくつぶんになるかをかんがえます。

31 ほんき本テスト② P.61-62 おおきな かずの たしざんと ひきざん

- 1 **しき** $40+3=43$
こたえ 43こ
- 2 **しき** $23+4=27$
こたえ 27こ
- 3 **しき** $25-5=20$
こたえ 20ぱん
- 4 **しき** $35-3=32$
こたえ 32まい

32 かんせいテスト P.63-64 おおきな かずの たしざんと ひきざん

- 1 ①90 ②60 ③100 ④50
⑤60 ⑥70
- 2 ①68 ②58 ③89 ④50
⑤91 ⑥44
- 3 **しき** $30+50=80$
こたえ 80こ
- 4 **しき** $22+6=28$
こたえ 28にん
- 5 **しき** $50-10=40$
こたえ 40だい
- 6 **しき** $26-4=22$
こたえ 22

33 き本テスト P.65-66 **ながさ**

- 1 (○を つける もの)
①あ ②い
- 2 (○を つける もの)
①あ ②い
- 3 ①たて ②よこ
- 4 ①に ○

ポイント

- ★ 《2ほんの えんぴつや ひ もの ながさの くらべかた》
(1) りょうほうの はしを そろえて くらべる。
(2) それぞれの ながさが、おなじ めもり いくつぶんかて くらべる。

34 かんせいテスト P.67-68 **ながさ**

- 1 ①い ②う ③え
- 2 たて
- 3 よこ
- 4 ①い ②う ③8つぶん
- 5 (い)の ほうが めもり (1つぶん) ながい。

35 き本テスト P.69-70 **かさ(たいせき)**

- 1 (○を つける もの)
①い ②あ
- 2 (○を つける もの)
①い ②あ

- 3 ①5はいぶん ②6ぱいぶん
③い

- 4 あに ○

ポイント

- 1 《2つの いれものには いった みずの かさの くらべかた》
 - ・おなじ いれもの の とき みずの たかさが たかい ほうが おおい。
 - ・みずの たかさが おなじ とき いれもの の ところが おおきい ほうが おおい。
- 3 《2つの いれもの の かさの くらべかた》
 - ・おなじ コップで みずが なんばい はいるかて くらべる。

36 かんせいテスト P.71-72 **かさ(たいせき)**

- 1 ①あ3, い1, う2
②あ2, い3, う1
③あ1, い3, う2
④あ1, い2, う3
- 2 ①(ポット)の ほうが コップで (2)はいぶん おおい。
②(やかん)の ほうが コップで (5)はいぶん おおい。
- 3 なべ

37 ほん き本テスト... P.73-74 ひろさ(めんせき)

- 1 ①に ○
 2 ①① ②①
 3 ①13こぶん ②12こぶん ③あお
 4 ①あか ②あお

ポイント

★ 《2まいの かみの ひろさの くらべかた》
 (1) ヘリを そろえて くらべる。
 (2) おなじ ます いくつぶんかで くらべる。

38 かんせいテスト P.75-76 ひろさ(めんせき)

- 1 ①あ ②い ③あ
 2 ①○ ②○ ③× ④○ ⑤×
 3 4つぶん

39 ほん き本テスト... P.77-78 とけい

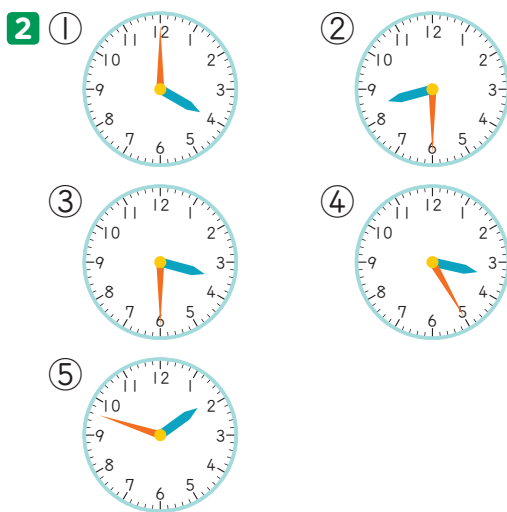
- 1 ①8じ ②5じ ③6じ ④9じ
 ⑤12じ ⑥9じ30ぶん(9じはん)
 ⑦1じ30ぶん(1じはん)
 ⑧4じ30ぶん(4じはん)
 ⑨12じ30ぶん(12じはん)
 2 ①6じ5ぶん ②8じ5ぶん
 ③3じ5ぶん ④7じ10ぶん
 ⑤9じ20ぶん ⑥12じ40ぶん
 ⑦11じ35ぶん ⑧4じ45ぶん
 ⑨10じ20ぶん ⑩2じ25ぶん
 ⑪12じ15ぶん

ポイント

★ 《とけいの よみかた》
 (1) とけいの みじかい はりて 「○じ」を よみます。
 (2) とけいの ながい はりて 「○ぶん」を よみます。
 とくに、とけいの ながい はりが 6の めもりの ところに きて いる ときは 「○じはん」とも いいます。



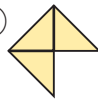

40 かんせいテスト P.79-80 とけい

- 1 ①7じ9ぶん ②4じ7ぶん
 ③10じ ④8じ12ぶん
 ⑤10じ30ぶん(10じはん)
 ⑥9じ27ぶん ⑦12じ48ぶん
 ⑧1じ ⑨6じ54ぶん
 ⑩1じ30ぶん(1じはん)
 ⑪2じ32ぶん ⑫10じ17ぶん



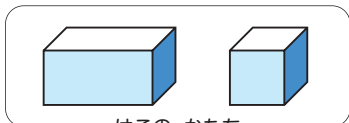
- 3 ③あ ①い ②う

41 基本テスト P.81-82 **いろいろな かたち**

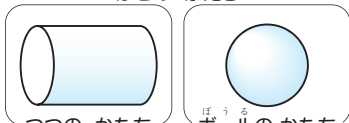
- 1 (せんで むすぶ もの)
 (あ)と (く), (い)と (か), (う)と (け),
 (え)と (き)
- 2 (せんで むすぶ もの)
 (あ)と (き), (い)と (か), (う)と (け),
 (え)と (く)
- 3 ①3まい ②8まい ③6まい
 ④9まい
- 4 ①  ②  ③ 
 ④ 

ポイント

1 かたちには、



はこの かたち



つつの かたち

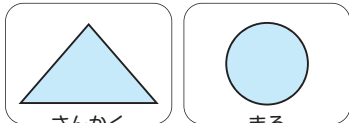
ボールの かたち

などが あります。

2 かみに うつしとって できる かたちには、



しかく



さんかく

まる

などが あります。

42 かんせいテスト P.83-84 **いろいろな かたち**

- 1 ①あ ②い ③う ④い ⑤う
 ⑥あ
- 2 ①9ほん ②11ほん
- 3 ①う ②あ ③い ④え ⑤う
 ⑥あ
- 4 あ10まい い16まい

43 かんせいテスト P.85-86 **いろいろな もんだい(1)**

- 1 **しき** $6 + 1 = 7$
こたえ 7ばんめ
- 2 **しき** $9 - 1 = 8$
こたえ 8にん
- 3 **しき** $8 - 1 = 7$
こたえ 7にん
- 4 **しき** $6 + 5 = 11$
こたえ 11ばんめ
- 5 **しき** $5 + 7 = 12$
こたえ 12ばんめ
- 6 **しき** $15 - 6 = 9$
こたえ 9だん
- 7 **しき** $13 - 5 = 8$
こたえ 8にん

44

かんせいテスト
P.87-88

いろいろな もんだい(2)

1 しき $8 + 4 = 12$

こたえ 12こ

2 しき $6 + 7 = 13$

こたえ 13ぼん

3 しき $11 - 3 = 8$

こたえ 8まい

4 しき $8 + 5 = 13$

こたえ 13にん

5 しき $9 + 3 = 12$

こたえ 12こ

6 しき $12 - 7 = 5$

こたえ 5こ

7 しき $11 - 8 = 3$

こたえ 3こ

45

P.89-90

しあげ テスト(1)

1 ①34 ②79 ③10 ④58 ⑤89

2 (○をつけるもの)

①87 ②99

3 ①7 ②13 ③19 ④34 ⑤3

⑥7 ⑦10 ⑧74 ⑨9 ⑩4

⑪8 ⑫7

4 しき $12 - 5 = 7$

こたえ 7にん

5 しき $6 + 4 - 5 = 5$

こたえ 5まい

46

P.91-92

しあげ テスト(2)

1 (ひだりから)8, 14, 21

2 ① $95 - 96 - 97 - 98 - 99 - 100$

② $100 - 95 - 90 - 85 - 80 - 75$

3 ①7じ8ふん ②2じ46ふん

③12じ37ふん

4 ①い ②う

5 ①う ②い

6 しき $15 - 9 = 6$

こたえ 6こ