

1 10までの かず ① 1・2ページ

①

•	••	•••	••••	•••••
1	2	3	4	5

②

••••	•••	••	•	
4	3	2	1	0

③

•••••	•••••	•••••	•••••	•••••
6	7	8	9	10

④

•••••	•••••	•••••	•••••	•••••
10	9	8	7	6

- ② ① 2 ② 4 ③ 3 ④ 5 ⑤ 6
⑥ 8 ⑦ 7 ⑧ 9 ⑨ 10 ⑩ 7

ポイント

1から 10までの かずを かぞえて、
すうじて かきます。

ときかた

- ① ② なにも ないことを「れい」と
いい、「0」と かきます。
② えを ゆびで さしながら、こえを
だして かぞえましょう。

2 10までの かず ② 3・4ページ

① ① 5 ② 8 ③ 9 ④ 6

②

● ● ● ● ○	② ● ● ● ● ●
○ ○ ○ ○ ○	○ ○ ○ ○ ○

③

● ● ● ● ●

③

•••	••	•	
3	2	1	0

- ④ ①(ひだりから) 3, 2, 1, 0
② 3, 2, 0 ③ 1, 0, 3

3 10までの かず ③ 5・6ページ

①

1	2	3	4	5
6	7	8	9	10
10	9	8	7	6
4	3	2	1	0

②

1	2	3	4	5	6	7	8	9	10
10	9	8	7	6	5	4	3	2	1

③

2	4	6	8	10
2	4	6	8	10
2	4	6	8	10

④

1	2	3	4	5	6	7	8	9	10
1	2	3	4	5	6	7	8	9	10
1	2	3	4	5	6	7	8	9	10
2	4	6	8	10	⑤ 3	2	1	0	

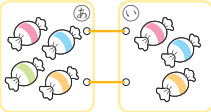
ポイント

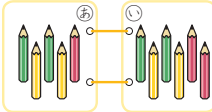
1から 10までの かずを じゅんばんに かきます。どんな じゅんばんで ならんでいるのか きをつけて かきましょう。

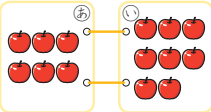
ときかた

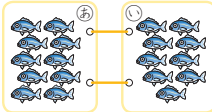
- ① ③④ かずが 1ずつ ちいさく なって います。
- ③ 「2, 4, 6, 8, …」と かずが 2ずつ おおきく なって います。

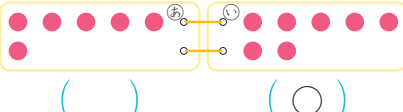
4 10までの かず (4) 7・8 ページ

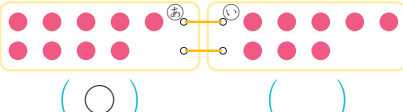
① ①  () ()

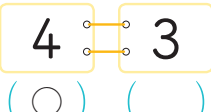
②  () ()


③  () ()

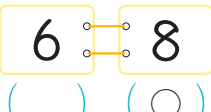
④  () ()


② ①  () ()

②  () ()

③ ①  () ()

②  () ()

③  () ()

④  () ()

④ ① 3 ② 2 ③ 7 ④ 10

⑤ ① 3 ② 4 ③ 7 ④ 9


ポイント


1から 10までの かずの, おおい (おおきい) すくない(ちいさい)を かんがえます。


ときかた


- ④ ① 2より 1 おおきい かずは 3です。
- ⑤ ① 4より 1 ちいさい かずは 3です。

5 10までの かず (5) 9・10 ページ

① ① 

② 

② ① 

② 

③ ① ●●●●●○○ ② ○○○○●○○

④ ① 3ばんめ ② 2ばんめ
③ そうた ④ さくら

ポイント

「まえから ○にん」と「まえから ○にんめ」の ちがいに ちゅういします。

ときかた

- ① ① 「まえから 3にん」なので, 3にん みんなに いろを ぬります。
- ② 「まえから 3にんめ」は 3にんめの ひと ひとりだけです。

6 10までの かず ⑥ 11・12 ページ

- 1 ① ② ③ ④
- 2 ① ② ③ ④
- 3 ① 1 ② 2 ③ 3 ④ 4
- 4 ① 2 ② 4 ③ 1 ④ 3 ⑤ 3 ⑥ 1 ⑦ 4 ⑧ 2
- 5 ① 3 ② 2 ③ 2 ④ 3 ⑤ 5 ⑥ 1 ⑦ 4 ⑧ 4 ⑨ 1 ⑩ 5

ポイント

5は いくつと いくつを かんがえます。

ときかた

- 1 ① 5は 1と 4です。あと ●が 4つて 5に なります。
- 2 ① 5は 4と 1です。みぎに 1つ ●を かきます。

7 10までの かず ⑦ 13・14 ページ

- 1 ① ② ③ ④ ⑤
- 2 ① ② ③ ④ ⑤
- 3 ① 1 ② 2 ③ 3 ④ 4 ⑤ 5
- 4 ① 2 ② 3 ③ 5 ④ 1 ⑤ 4 ⑥ 3 ⑦ 1 ⑧ 5 ⑨ 4 ⑩ 2
- 5 ① 5 ② 4 ③ 3 ④ 1 ⑤ 6

8 10までの かず ⑧ 15・16 ページ

- 1 ① ② ③ ④ ⑤
- 2 ① ② ③ ④ ⑤ ⑥
- 3 ① 1 ② 2 ③ 3 ④ 4 ⑤ 5 ⑥ 6
- 4 ① 1 ② 3 ③ 6 ④ 4 ⑤ 5 ⑥ 2 ⑦ 5 ⑧ 3 ⑨ 2 ⑩ 6 ⑪ 4 ⑫ 1
- 5 ① 2 ② 4 ③ 4 ④ 7

9 10までの かず ⑨ 17・18 ページ

- 1 ① ② ③ ④ ⑤ ⑥ ⑦
- 2 ① ② ③ ④ ⑤
- 3 ① 7 ② 6 ③ 5 ④ 4 ⑤ 3 ⑥ 2
- 4 ① 6 ② 5 ③ 4 ④ 2 ⑤ 1 ⑥ 7 ⑦ 3 ⑧ 6 ⑨ 5 ⑩ 1 ⑪ 7 ⑫ 3 ⑬ 6 ⑭ 2
- 5 ① 2 ② 5 ③ 8 ④ 8

13 20までの かず ② 25・26 ページ

- 1 ① 12 ② 15 ③ 19
 2 ① 11 ② 13 ③ 17
 3 ① 12 ② 14 ③ 14 ④ 15 ⑤ 17
 ⑥ 13 ⑦ 20 ⑧ 18

ポイント

2ずつや 5ずつを まとめて かぞえましょう。

ときかた

- 1 ① 「2, 4, 6, 8, …」と 2ずつ
 まとめて かぞえます。
 2 ① 「5, 10, …」と 5ずつ
 まとめて かぞえます。

14 20までの かず ③ 27・28 ページ

- 1 ① 1 ② 2 ③ 3 ④ 4 ⑤ 5
 ⑥ 6 ⑦ 7 ⑧ 8 ⑨ 9 ⑩ 10
 2 ① 10 ② 10 ③ 10 ④ 10 ⑤ 10
 ⑥ 10 ⑦ 10 ⑧ 10 ⑨ 10 ⑩ 10
 3 ① 11 ② 12 ③ 13 ④ 14 ⑤ 15
 ⑥ 16 ⑦ 17 ⑧ 18 ⑨ 19 ⑩ 20
 4 ① 5 ② 7 ③ 8 ④ 4 ⑤ 10
 5 ① 16 ② 12 ③ 19 ④ 11 ⑤ 13

ポイント

11から 20までの かずを 10と
 いくつで かんがえます。
 「11は 10と □」「11は □と 1」
 「10と 1で □」と 3つの みかたを
 れんしゅうしましょう。

15 20までの かず ④ 29・30 ページ

- 1 ①

1	2	3	4	5	6	7	8	9	10
11	12	13	14	15	16	17	18	19	20

 ②

1	2	3	4	5	6	7	8	9	10
11	12	13	14	15	16	17	18	19	20

 ③

1	2	3	4	5	6	7	8	9	10
11	12	13	14	15	16	17	18	19	20

 ④

1	2	3	4	5	6	7	8	9	10
11	12	13	14	15	16	17	18	19	20

 ⑤

1	2	3	4	5	6	7	8	9	10
11	12	13	14	15	16	17	18	19	20

 2 ①

1	2	3	4	5	6	7	8	9	10
11	12	13	14	15	16	17	18	19	20

 ②

1	2	3	4	5	6	7	8	9	10
11	12	13	14	15	16	17	18	19	20

 ③

1	2	3	4	5	6	7	8	9	10
11	12	13	14	15	16	17	18	19	20

 ④

1	2	3	4	5	6	7	8	9	10
11	12	13	14	15	16	17	18	19	20

 ⑤

1	2	3	4	5	6	7	8	9	10
11	12	13	14	15	16	17	18	19	20

ポイント

11から 20までの かずを じゅんばん
 にかきます。すうじの ならびかたを
 おぼえましょう。

16 20までの かず ⑤ 31・32 ページ

- 1 ① 10 11 12 13 14 15
 ② 15 16 17 18 19 20
 ③ 20 19 18 17 16 15
 ④ 14 13 12 11 10 9
- 2 ① 8 9 10 11 12 13 14 15 16 17
 ② 20 19 18 17 16 15 14 13 12 11
 ③ 18 17 16 15 14 13 12 11 10 9
- 3 ① 12 13 14 ② 17 18 19
 ③ 15 14 13 ④ 20 19 18
- 4 ① 12 13 14 15 16 17
 ② 18 17 16 15 14 13
 ③ 10 12 14 16 18 20
 ④ 20 18 16 14 12 10

ポイント

20までの かずを じゅんばんに かきます。どんな じゅんばんで ならんでいるのか きをつけて かきましょう。

ときかた

- 1 ③④ かずが 1ずつ ちいさく なっています。
 4 ③ 「10, 12, …」と かずが 2ずつ おおきく なっています。

17 20までの かず ⑥ 33・34 ページ

- 1 ① (ひだりから) 2, 6
 ② 0, 3, 8, 10
 ③ 1, 7, 11, 14
 ④ 3, 7, 10, 13, 19
 ⑤ 0, 4, 8, 12, 18
- 2 ① (ひだりから) 5, 7, 12, 15
 ② 9, 13, 16, 18
 ③ 2, 4, 6, 8, 10
 ④ 2, 4, 6, 8, 10
 ⑤ 0, 2, 4, 6, 8, 10, 12, 14, 16, 18, 20
 ⑥ 0, 2, 4, 6, 8, 10, 12, 14, 16, 18, 20

ポイント

かずのせんの めもりは、みぎに 1ずつ おおきく なって いきます。

18 20までの かず ⑦ 35・36 ページ

- 1 ① 11 ② 19 ③ 13 ④ 16 ⑤ 17 ⑥ 20
 2 ① 10 ② 16 ③ 14 ④ 13 ⑤ 11 ⑥ 19
 3 ① 12 ② 8 ③ 17 ④ 13
 4 ① 13 ② 7 ③ 18 ④ 12

ポイント

20までの かずの おおきさを かずの せんで かんがえます。かずのせんで、みぎにあるのは おおきい かず、ひだりにあるのは ちいさい かずです。

ときかた

- 1 ① かずのせんで、10の 1つ みぎの かずは 11です。

19 20までの かず ⑧ 37・38 ページ

1 ① ②

③ ④

⑤ ⑥

- 2 ① 12, 10, 8 ② 15, 14, 11
③ 19, 16, 9

3 ① ②

4 ①

②

③

④

ポイント

20までの かずの おおきさを くらべます。

ときかた

- 1 ① 15は 10と 5, 13は 10と 3なので, 5と 3で くらべます。
3 ① ひだりは 10と 4, みぎは 10と 3です。4と 3で くらべます。
4 かぞえた ものに しるしを つけると, かぞえまちがいが なくなります。

20 おおきな かず ① 39・40 ページ

- 1 ① 16 ② 22 ③ 35 ④ 58 ⑤ 69
⑥ 84 ⑦ 92 ⑧ 100 ⑨ 103 ⑩ 116
2 ① 43 ② 34 ③ 78 ④ 57 ⑤ 106

ポイント

120までの おおきな かずを かぞえます。10ずつを ひとまとめに して かんがえましょう。

ときかた

- 1 ② 10の たばが 2こで 20と, ばらが 2つで あわせて 22です。
⑧ 10の たばが 10こで 100です。
2 ⑤ 10の まとまりが 10こと, ばらが 6ぴきです。100と 6で 106です。

21 おおきな かず ② 41・42 ページ

- 1 ①25 ②37 ③59 ④47 ⑤62
⑥84 ⑦79 ⑧98
- 2 ①2, 8 ②8, 6 ③6, 9
④70 ⑤50 ⑥80
⑦100 ⑧4 ⑨9 ⑩10

22 おおきな かず ③ 43・44 ページ

- 1 ①2 ②5
- 2 ①2, 7 ②4, 3 ③3, 0
- 3 ①7, 6 ②5, 1 ③8, 0
④9, 1 ⑤7, 3 ⑥0, 9
- 4 ①41 ②60 ③50 ④67

ポイント

くらいごとに かずを かんがえると、
おおきさが わかりやすく なります。

23 おおきな かず ④ 45・46 ページ

1

1	2	3	4	5	6	7	8	9	10
11	12	13	14	15	16	17	18	19	20
21	22	23	24	25	26	27	28	29	30
31	32	33	34	35	36	37	38	39	40
41	42	43	44	45	46	47	48	49	50
51	52	53	54	55	56	57	58	59	60
61	62	63	64	65	66	67	68	69	70
71	72	73	74	75	76	77	78	79	80
81	82	83	84	85	86	87	88	89	90
91	92	93	94	95	96	97	98	99	100
101	102	103	104	105	106	107	108	109	110
111	112	113	114	115	116	117	118	119	120

2

①	1	2	3	4	5	6	○	8	9	10	
②	11	12	13	14	15	16	○	18	19	20	
	21	22	23	24	25	26	○	28	29	30	
	31	32	33	34	35	36	○	38	39	40	
	41	42	43	44	45	46	○	48	49	50	
	51	52	53	54	55	56	○	58	59	60	
	61	62	63	64	65	66	○	68	69	△	
	△	△	△	△	△	△	△	○	△	△	80
	81	82	83	84	85	86	○	88	89	90	
	91	92	93	94	95	96	○	98	99	100	
	101	102	103	104	105	106	○	108	109	110	
	111	112	113	114	115	116	○	118	119	120	

- ③ 10, 20, 30, 40, 50, 60, 70,
80, 90, 100, 110, 120

ポイント

1から 120までの かずの ならびかた
を ずに まとめて かんがえます。

ときかた

- 2 よこや たてに ならんで いる
かずを みて、ならびかたの きまり
を みつけましょう。

24 おおきな かず ⑤ 47・48 ページ

- 1
- ① 33 34 35 36 37 38 39 40
- ② 68 69 70 71 72 73 74 75
- ③ 80 81 82 83 84 85 86 87
- ④ 99 100 101 102 103 104 105 106
- ⑤ 51 50 49 48 47 46 45 44
- ⑥ 100 99 98 97 96 95 94 93
- ⑦ 65 64 63 62 61 60 59 58
- ⑧ 120 119 118 117 116 115 114 113

- ② ① 40 50 60 70 80 90 100 110
 ② 6 8 10 12 14 16 18 20
 ③ 50 55 60 65 70 75 80 85
 ④ 70 60 50 40 30 20 10 0
 ⑤ 84 82 80 78 76 74 72 70
 ⑥ 100 95 90 85 80 75 70 65
 ⑦ 12 22 32 42 52 62 72 82
 ⑧ 24 34 44 54 64 74 84 94
 ⑨ 6 16 26 36 46 56 66 76
 ⑩ 98 88 78 68 58 48 38 28

ポイント

おおきな かずを じゅんばんに かきます。かずが つづいて ならんでいるところで、どんな じゅんばんかを かんがえます。

ときかた

- ① ⑤⑥⑦⑧ かずが 1ずつ ちいさく になって います。
 ② ① 「60, 70, 80, ...」と かずが 10ずつ おおきく になって います。
 ⑤ 「84, 82, ...」と かずが 2ずつ ちいさく になって います。

25 おおきな かず ⑥ 49・50 ページ

- ① ①(ひだりから) 1, 11, 16, 21, 26
 ② 22, 28, 32, 42, 48
 ③ 25, 34, 37, 41, 45
 ④ 43, 53, 57, 63, 67
 ⑤ 44, 49, 58, 65, 69

- ② ①(ひだりから) 41, 51, 61, 66, 76
 ② 45, 56, 62, 72, 78
 ③ 64, 74, 84, 89, 94
 ④ 73, 85, 96, 101, 107
 ⑤ 66, 77, 89, 102, 114

ポイント

かずのせんの めもりは、みぎに 1ずつ おおきく になって いきます。

26 おおきな かず ⑦ 51・52 ページ

- ① ① 12 ② 8 ③ 22 ④ 18
 ② ① 93 ② 87 ③ 103 ④ 97
 ③ ① 28 ② 39 ③ 70 ④ 91
 ④ ① 58 ② 80 ③ 99 ④ 110
 ⑤ ①(おおきい かず) 40
 (ちいさい かず) 36
 ②(おおきい かず) 51
 (ちいさい かず) 47

ポイント

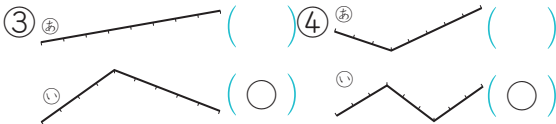
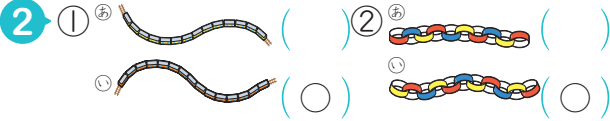
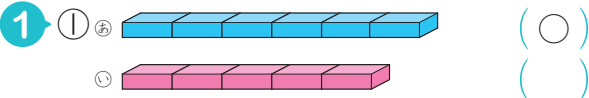
おおきな かずの おおきさを かずのせんで かんがえます。

ときかた

- ① ③ 20より 2 おおきい かずは、かずのせんで 20の 2つ みぎの かずです。
 ② ④ 100より 3 ちいさい かずは、かずのせんで 100の 3つ ひだりの かずです。

29 な が さ ②

57・58 ページ



3 ①はし ②けしゴム

4 ①あお, 2
 ②あお, 3

ポイント

ながさは、もとに する おおきさが
 いくつぶん あるかで くらべる ことが
 できます。

ときかた

1 ① あは 6こぶん, いは 5こぶん
 ③ はしは ますの 10こぶん,
 けしゴムは ますの 4こぶんです。

30 かさ(たいせき)

59・60 ページ

1 ①あ2 い3 う1
 ②あ3 い1 う2
 ③あ1 い3 う2
 ④あ1 い2 う3

2 あ1 い2 う3

3 はるとさん

4 やかん, 2

5 あ2 い1 う3

ポイント

かさ(たいせき)は、はしを そろえた
 ときの たかさや もとに する おおき
 さが いくつぶん あるかで、くらべます。

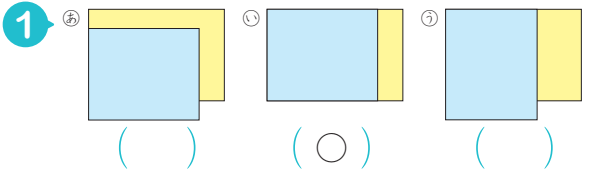
ときかた

1 ③ みずの たかさは おなじなので、
 いれもののはばが おおき
 ほうに みずが おおく はいつて
 います。

3 コップの かすが おおい ほうが、
 みずが おおいです。

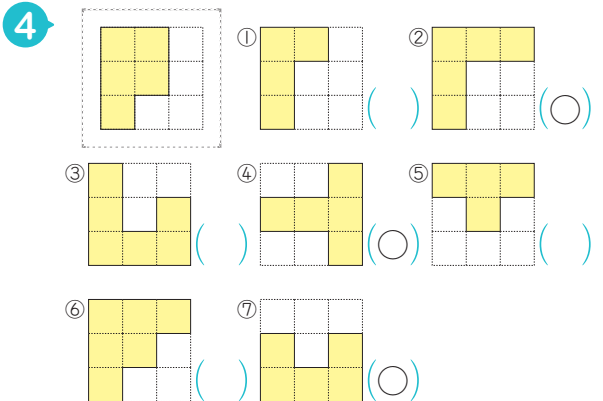
31 ひろさ(めんせき)

61・62 ページ



2 ①7つぶん ②9つぶん ③あか
 ④2つぶん

3 ①あお ②あお



33 とけい ②

65・66 ページ

- 1 ① 8じ ② 8じ1ふん
③ 8じ2ふん ④ 8じ3ふん
⑤ 8じ4ふん ⑥ 8じ5ふん
- 2 ① 8じ2ふん ② 8じ5ふん
③ 8じ1ふん ④ 8じ4ふん
- 3 ① 8じ5ふん ② 8じ6ふん
③ 8じ7ふん ④ 8じ8ふん
⑤ 8じ9ふん ⑥ 8じ10ふん
- 4 ① 8じ8ふん ② 8じ6ふん
③ 8じ10ふん ④ 8じ9ふん

ポイント

ひろさ(めんせき)は、はしを そろえた
ときの ひろさや もとに する おおき
さが いくつぶん あるかで、くらべます。

ときかた

- 1 ひろさを ちよくせつ くらべる
ときは、りょうほうの はしを そろ
えて かさねます。
- 4 もとに する ひろさは、ますの
5つぶんです。どんな むきになっ
て いても、ますが 5つ あれば
おなじ ひろさです。

ポイント

とけいは みじかい はりで「なんじ」を、
ながい はりで「なんぶん」を よみます。
ここでは「0じ」から「0じ10ぶん」
までの とけいを よみます。

ときかた

- 1 ながい はりが 1から なんめも
り すずんで いるかを かぞえます。
- 3 ながい はりが とけいの すうじ
の 1を さすと 5ぶん、2を さ
すと 10ぶんです。

34 とけい ③

67・68 ページ

- 1 ① 8じ5ふん ② 6じ5ふん
③ 8じ4ふん ④ 10じ4ふん
- 2 ① 2じ1ふん ② 7じ1ふん
③ 9じ3ふん ④ 6じ3ふん
⑤ 4じ2ふん ⑥ 12じ4ふん
- 3 ① 8じ10ふん ② 11じ10ふん
③ 8じ8ふん ④ 5じ8ふん

ポイント

「なんじ」と「なんじはん」の とけいを
よみます。

ときかた

- 1 「なんじ」の とけいは ながい
はりが 12を さします。
① みじかい はりが 1を さして
いるので「1じ」です。
- 3 「なんじはん」の とけいは なが
い はりが 6を さします。
① みじかい はりは 9と 10の
あいだなので「9じはん」です。

- 4 ①9じ6ぶん ②6じ6ぶん
③10じ7ぶん ④2じ7ぶん
⑤1じ9ぶん ⑥12じ8ぶん

35 とけい ④

69・70 ページ

- 1 ①8じ10ぶん ②8じ11ぶん
③8じ12ぶん ④8じ13ぶん
⑤8じ14ぶん ⑥8じ15ぶん
- 2 ①8じ11ぶん ②8じ15ぶん
③8じ13ぶん ④8じ14ぶん
- 3 ①8じ15ぶん ②8じ16ぶん
③8じ17ぶん ④8じ18ぶん
⑤8じ19ぶん ⑥8じ20ぶん
- 4 ①8じ17ぶん ②8じ20ぶん
③8じ21ぶん ④8じ16ぶん

ポイント

「〇じ10ぶん」から「〇じ21ぶん」までのとけいをよみます。

ときかた

- 1 ながい はりが とけいの すうじの 2を さすと 10ぶんです。10ぶんから なんめもり すすんでいるかを かぞえます。

36 とけい ⑤

71・72 ページ

- 1 ①8じ5ぶん ②8じ10ぶん
③8じ15ぶん ④8じ20ぶん
⑤8じ25ぶん ⑥8じ30ぶん
⑦8じ35ぶん ⑧8じ40ぶん
⑨8じ45ぶん ⑩8じ50ぶん
⑪8じ55ぶん ⑫8じ25ぶん

- 2 ①8じ15ぶん ②5じ15ぶん
③8じ20ぶん ④11じ20ぶん
- 3 ①6じ40ぶん ②2じ35ぶん
③5じ50ぶん ④7じ25ぶん
⑤4じ55ぶん ⑥10じ45ぶん

ポイント

ながい はりが とけいの すうじの 12を さすと 0ぶん, 1を さすと 5ぶん, 2を さすと 10ぶんです。すうじが 1ふえると, 5ぶん すすみます。

ときかた

- 3 ① みじかい はりは 6と 7のあいだにあるので, この とけいは 「6じ40ぶん」です。

37 とけい ⑥

73・74 ページ

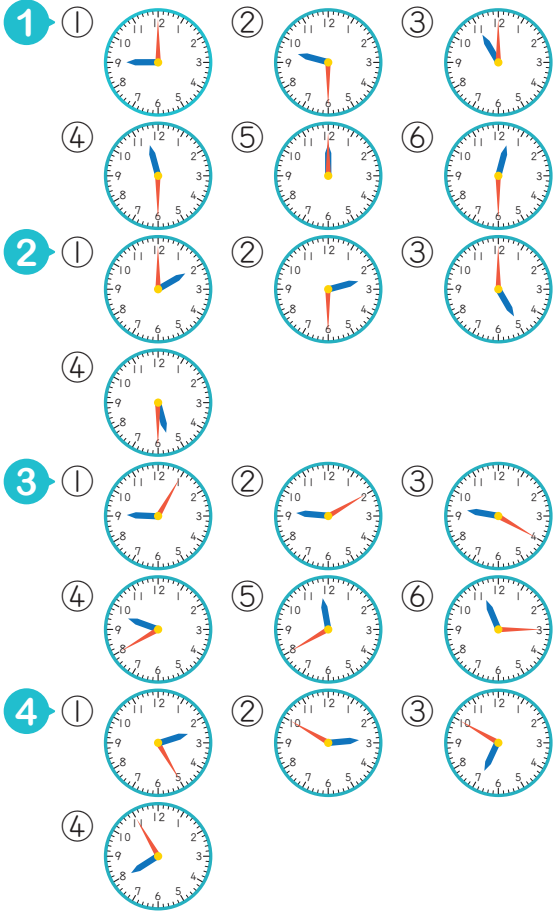
- 1 ①8じ11ぶん ②8じ13ぶん
③8じ23ぶん ④8じ34ぶん
⑤8じ42ぶん ⑥8じ53ぶん
- 2 ①8じ22ぶん ②8じ31ぶん
③8じ43ぶん ④8じ54ぶん
- 3 ①8じ17ぶん ②8じ19ぶん
③8じ26ぶん ④8じ38ぶん
⑤8じ49ぶん ⑥8じ57ぶん
- 4 ①8じ28ぶん ②8じ37ぶん
③8じ46ぶん ④8じ59ぶん

ポイント

みじかい はりは 8と 9の あいだにあるので「8じ●ふん」です。ながい はりて「なんぷん」を よみます。

ときかた

- 1 ちいさい とけいの「●ふん」からなんめもり すすんで いるかを よみとりましょう。



38 とけい ⑦

- 1 ① 9じ17ふん ② 10じ17ふん
③ 2じ17ふん ④ 3じ17ふん
- 2 ① 1じ22ふん ② 4じ22ふん
③ 5じ49ふん ④ 2じ49ふん
⑤ 11じ28ふん ⑥ 5じ28ふん
- 3 ① 3じ47ふん ② 1じ38ふん
③ 4じ53ふん ④ 4じ52ふん
- 4 ① 4じ42ふん ② 9じ21ふん
③ 10じ54ふん ④ 11じ57ふん
⑤ 9じ47ふん ⑥ 6じ33ふん

ポイント

とけいは みじかい はりて「なんじ」を、ながい はりて「なんぷん」を よみます。みじかい はりが どの すうじと どの すうじの あいだにあるかを みて、「なんじ」を こたえます。

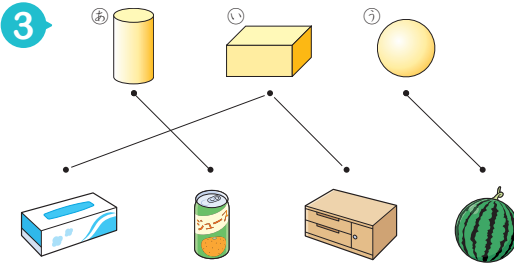
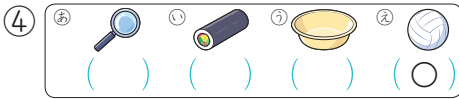
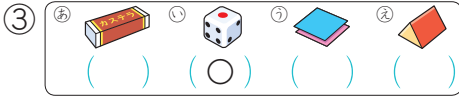
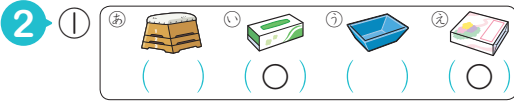
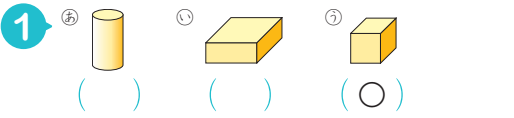
ポイント

とけいに「〇じ」、「〇じはん」、「〇じ●ふん」の ときの ながい はりをかきいれます。ながい はりは、「〇じ」から 5ふんごとに すうじを さします。

ときかた

- 1 ながい はりは、「〇じ」の ときは 12を、「〇じはん」の ときは 6を さします。
- 3 ながい はりは、「5ふん」の ときは 1を、「10ふん」の ときは 2を さします。

40 いろいろな かたち ① 79・80 ページ



4 ① 3つ ② 2つ ③ 1つ ④ 3つ

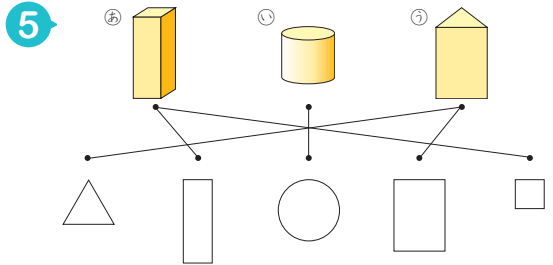
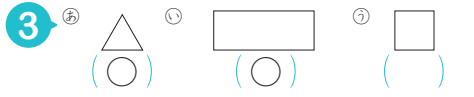
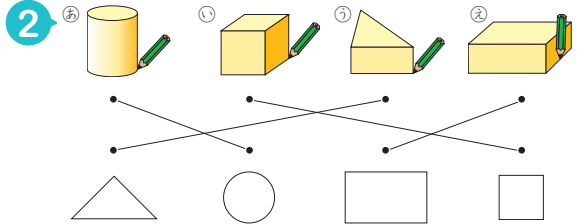
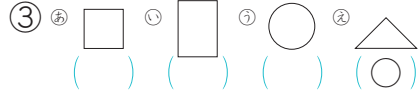
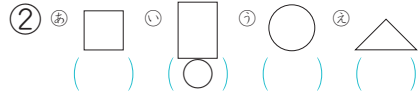
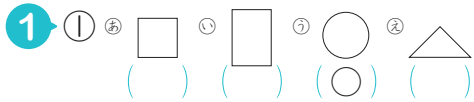
ポイント

かたちの とくちょうから おおきく つぎの 4つの かたちに わけます。
「たまの かたち」「つつの かたち」
「さいころの かたち」「はこの かたち」

ときかた

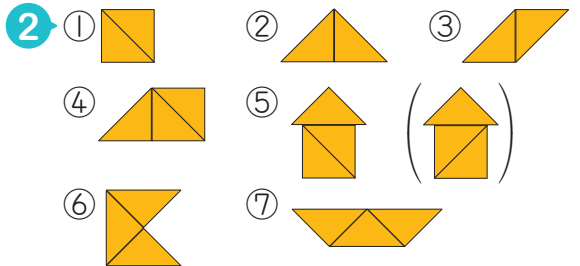
- 2 ① つみきは、はこの かたちを して います。
② つつの かたちを えらびます。
③ さいころの かたちです。
④ たまの かたちです。
- 4 ④ かぞえまちがいが ないように、かぞえた つみきには しろしを つけ ましょう。

41 いろいろな かたち ② 81・82 ページ

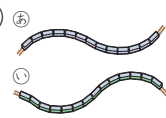

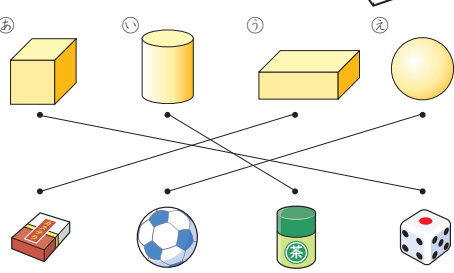


42 いろいろな かたち ③ 83・84 ページ

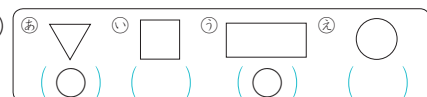
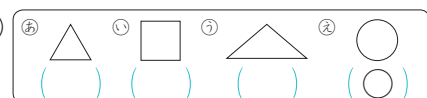
1 ① 2まい ② 3まい ③ 4まい



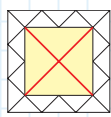
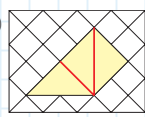
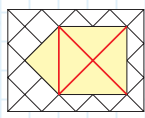
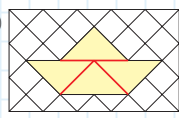


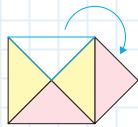
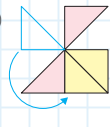
3 ① 6まい ② 5まい

1 ①67 ②54
 2 ①76 ②100 ③6, 8
 3 ① $52 \text{ --- } 49$ ② $68 \text{ --- } 86$
 () () () ()
 4 ①  () ②  ()
 () () () ()
 5 

- 6 ①10じ30ぶん ②12じ15ぶん
 ③3じ53ぶん ④2じ11ぶん

1 ①(ひだりから)0, 6, 9, 14, 19
 ②43, 57, 79, 88, 96
 2 ①62 ②58 ③41 ④37
 ⑤ $64 \text{ --- } 66 \text{ --- } 68 \text{ --- } 70 \text{ --- } 72 \text{ --- } 74 \text{ --- } 76 \text{ --- } 78$
 ⑥ $23 \text{ --- } 33 \text{ --- } 43 \text{ --- } 53 \text{ --- } 63 \text{ --- } 73 \text{ --- } 83 \text{ --- } 93$
 3 ①  () () () ()
 ②  () () () ()
 4 ①あ2 ②い1 ③う3
 5 ①あか ②あお

ときかた

1 ①  ② 
 ③  ④ 
 3 ①  ② 
 4 ①  ② 

45 かずしらべ

- 1 ①3びき ②さる
 ③ねこ ④あひる

2 ①

 みかん りんご すいか いちご

- ②3つ ③すいか
 ④みかん ⑤いちご

ポイント

ものの かずを ずに せりすると、
 かずの ちがいが わかりやすく なります。

ときかた

- 2 かぞえまちがいが ないように、かぞえた くだものには しるしをつ けましょう。